

## I- IDENTIFICACIÓN DE LA PRESENTACIÓN N° 006 /2022



ASIGNATURA	MATEMÁTICAS
PROFESOR	HEYDY MORALES
CURSO	1° BÁSICO
SEMESTRE	PRIMERO







## II- GESTIÓN CURRICULAR

OBJETIVO	ASOCIAR NÚMERO Y CANTIDAD		
CONTENIDO	CÁLCULO MENTAL		
NÚMERO DE CLASE	006 - 2022	FECHA	VIERNES 11/03/2022
ACTIVIDAD PRÁCTICA	REPRESENTACIÓN DE NÚMEROS A TRAVÉS DE OBJETOS PRESENTES EN EL HOGAR		
MATERIAL	CUADERNO - LÁPIZ - COLORES - OBJETOS VARIOS		

**IDENTIFICAR  
NÚMEROS  
Y CANTIDADES**



# PRACTICAMOS CÁLCULO MENTAL



## Reconocer 7 y 8

7 siete

8 ocho

Encierre el número de elementos.  
Cuando cuente un elemento, márquelo para no contarlo dos veces.

<p>1</p> <p>8</p>	<p>2</p> <p>7 8</p>	<p>3</p> <p>7 8</p>
<p>4</p> <p>7 8</p>	<p>5</p> <p>7 8</p>	<p>6</p> <p>7 8</p>

**TOMO 1  
ASTORECA  
MATEMÁTICA  
PÁGINA 23 – 24**

## Escribir 7 y 8

Escriba 7 y 8. Respete la dirección del número.

7	7	7							
8	8	8							

Escriba el número de elementos.

<p>1</p> <p>8</p>	<p>2</p> <p></p>
<p>3</p> <p></p>	<p>4</p> <p></p>
<p>5</p> <p></p>	<p>6</p> <p></p>



## Dibujar 7 u 8 objetos

Escriba 7 y 8. Respete la dirección del número.

7	7	7										
8	8	8										

Dibuje la cantidad de objetos que indica el número.

1	2
7	8
3	4
8	7


Escriba los números que dicte su profesor.

1	●	□	●	□	●	□	●	□
---	---	---	---	---	---	---	---	---

**TOMO 1**  
**ASTORECA**  
**MATEMÁTICA**  
**PÁGINA 25**





**CONTAMOS,  
COLOREAMOS Y  
PEGAMOS EN  
CUADERNO DE  
MATEMÁTICAS**

